

KHỞI ĐỘNG



Ong


non

học

việc




Câu 1: Thực hiện phép tính:
 $31 + 48 = ?$



A. 79




B. 78



C. 69

Câu 2: Thực hiện phép tính:
 $30 + 55 = ?$



A. 75




B. 95



C. 85

Câu 3: Thực hiện phép tính:
 $48 + 51 = ?$



A. 89



B. 99



C. 98

CHỦ ĐỀ 12

PHÉP CỘNG, PHÉP TRỪ TRONG PHẠM VI 1000

BÀI 59: PHÉP CỘNG (KHÔNG NHỚ) TRONG PHẠM VI 1000 (T1)



KHÁM PHÁ



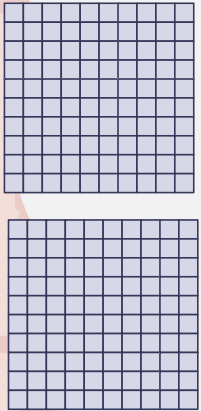
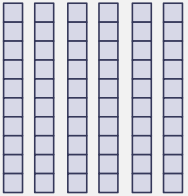

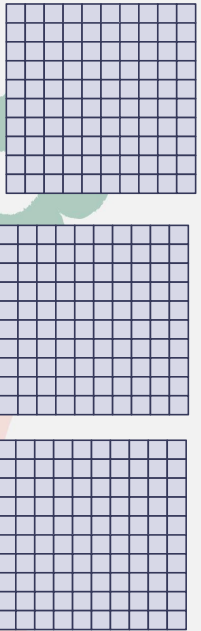


Tập 1 có
264 trang.

Tập 2 có
312 trang

Cả 2 tập có bao
nhiêu trang ?



$$264 + 312 = ?$$

Trăm	Chục	Đơn vị
		
		

$$264 + 312$$

$$\begin{array}{r}
 + 264 \\
 312 \\
 \hline
 576
 \end{array}$$

- 4 cộng 2 bằng 6, viết 6
- 6 cộng 1 bằng 7, viết 7
- 2 cộng 3 bằng 5, viết 5

$$264 + 312 = 576$$

Khi đặt tính và tính các phép tính cộng không nhớ trong phạm vi 1000 em cần thực hiện:

❖ Bước 1: Đặt tính

- Viết các số thẳng hàng, thẳng cột
- Dấu phép tính đặt giữa hai số
- Kẻ nét vạch ngang thay cho dấu bằng

❖ Bước 2: Tính

- Thực hiện tính theo thứ tự từ phải sang trái, bắt đầu từ các chữ số hàng đơn vị.
- Kết quả tính ở mỗi lượt phải viết thẳng hàng thẳng cột.

HOẠT ĐỘNG



1 Tính.

$$\begin{array}{r} + 247 \\ + 351 \\ \hline 598 \end{array}$$

$$\begin{array}{r} + 703 \\ + 204 \\ \hline 907 \end{array}$$

$$\begin{array}{r} + 526 \\ + 32 \\ \hline 558 \end{array}$$

$$\begin{array}{r} + 815 \\ + 60 \\ \hline 875 \end{array}$$





2

Đặt tính rồi tính.

$$460 + 231$$

$$375 + 622$$

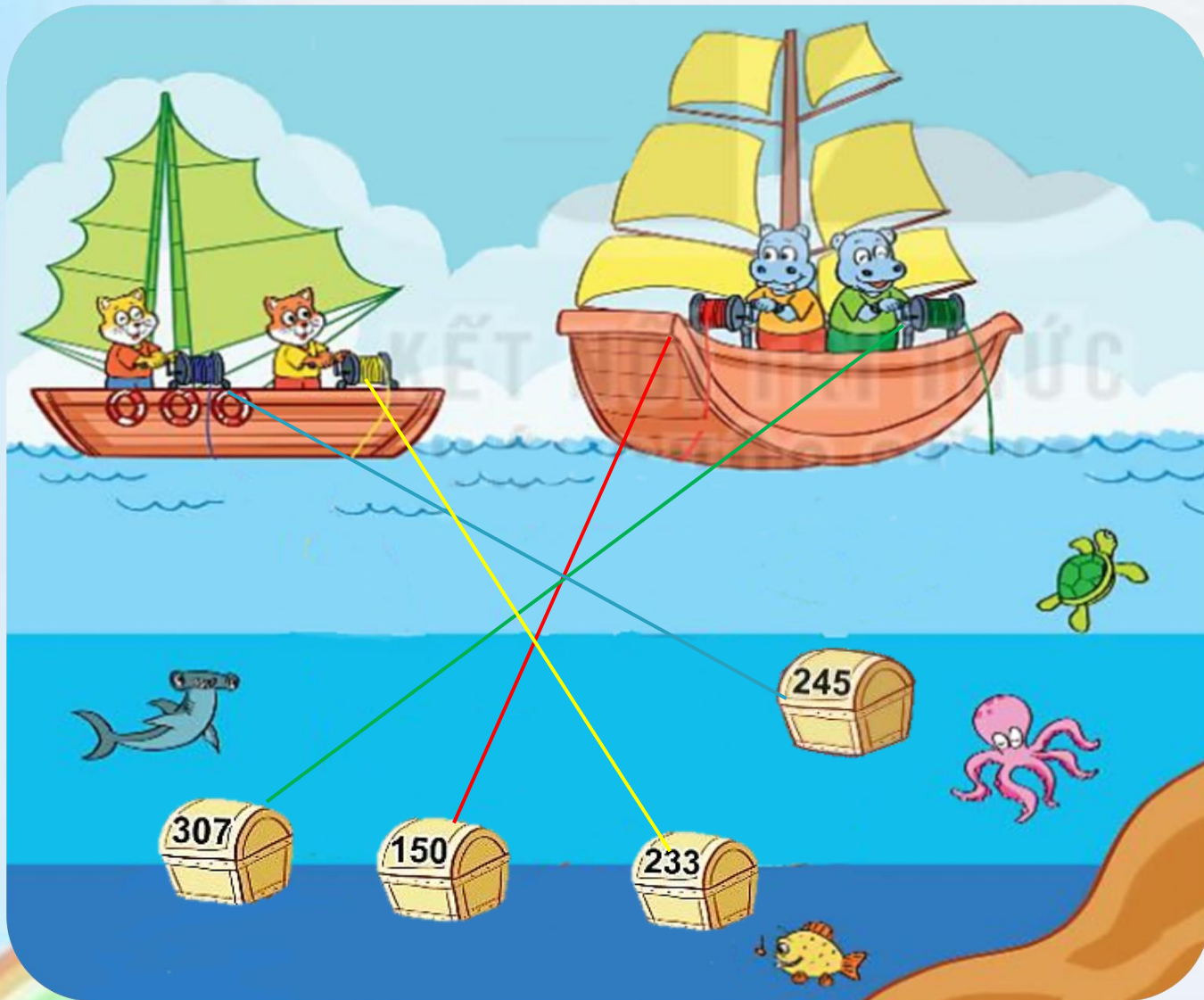
$$800 + 37$$

$$923 + 6$$



3

Mèo và hà mã vớt được những hòm đựng ngọc trai. Số ngọc trai được ghi trên mỗi hòm.



Số ?

- a) Thuyền của mèo vớt được tất cả **478** viên ngọc trai.
- b) Thuyền của hà mã vớt được tất cả **457** viên ngọc trai.



THANK YOU

for watching